



## **13º ROTEIRO** DE ATIVIDADES COMPLEMENTARES DE ESTUDO – COVID 19

ESCOLA MUNICIPAL “MARIA TEIXEIRA GEORG”

SALA DE RECURSOS MULTIFUNCIONAL - NÍVEL II

**ATIVIDADES PARA A SEMANA DE 24 A 28 DE MAIO DE 2021**

ROLÂNDIA, \_\_\_\_\_ DE \_\_\_\_\_ DE 2021.

ALUNO (A): \_\_\_\_\_ TURMA: S.R.M.

PROFESSORA: \_\_\_\_\_

### **O que vamos estudar:**

- **Língua Portuguesa:** Consciência Fonológica; Linguagem oral e escrita; Interpretação; Compreensão e Ortografia.
- **Matemática:** Números naturais até a ordem das centenas; Interpretação de gráficos e tabelas.
- **Área Cognitiva:** Atenção, concentração, observação, percepção e discriminação visual.
- **Área Psicomotora:** Imagem/ esquema corporal Coordenação visomotora, motora fina, orientação espacial e lateralidade.
- **Área Sócio Emocional:** Criatividade, imaginação, afetividade, motivação.

### **Para que vamos estudar:**




- Desenvolver a linguagem oral, leitura, escrita consciência fonológica e ortografia, além da imaginação e criatividade.
- Interpretar os textos lidos indo além do que está escrito.
- Realizar atividades de raciocínio lógico, envolvendo atividades com a numeração, apropriando-se também de conceitos básicos matemáticos.
- Interpretar gráficos e tabelas simples;
- Estimular o desenvolvimento da atenção, concentração, memória, percepção e discriminação visual.
- Compreender e fazer uso de legendas.
- Propiciar atividades educativas, oferecendo momentos de integração, lazer e comunicação.



### **Como vamos registrar o que aprendemos?**

- ★ As atividades propostas devem ser realizadas no caderno do aluno e em folhas impressas;
- ★ Não se esquecer de colocar a data da realização da atividade e o nome do aluno.



- **ATIVIDADE: CARTA ENIGMÁTICA: SUBSTITUA OS DESENHOS POR PALAVRAS E COPIE O TEXTO NAS LINHAS ABAIXO:**

O  SUBIU NO  DA  .

A  FICOU TRISTE E  .

ENTÃO O  SUBIU NA  .

ELE TIROU O  DE CIMA DO  .

A  FICOU MUITO  .

A  AGRADECEU AO  .

---

---

---

---

---

---

---

---

---

---

---



---

---

---

---

• **ATIVIDADE: INTERPRETAÇÃO:**

A) ONDE O GATO SUBIU?

R: \_\_\_\_\_  
\_\_\_\_\_

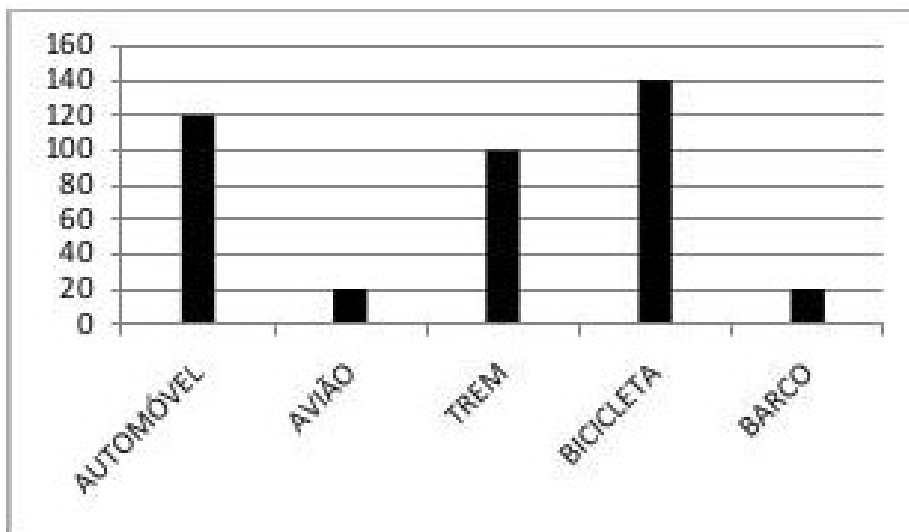
B) POR QUE A MENINA FICOU TRISTE?

R: \_\_\_\_\_

C) O QUE O MENINO FEZ?

R: \_\_\_\_\_

• **ATIVIDADE: O GRÁFICO ABAIXO APRESENTA O RESULTADO DE UMA PESQUISA DE OPINIÃO , REALIZADA PARA SABER QUAL MEIO DE TRANSPORTE É MAIS SEGURO. OBSERVE-O E RESPONDA:**





• **COMPLETE A TABELA ABAIXO COM O NÚMERO DE PESSOAS QUE ESCOLHERAM:**

<b>TREM</b>	
<b>BICICLETA</b>	
<b>AVIÃO</b>	
<b>BARCO</b>	
<b>AUTOMÓVEL</b>	

• **AGORA RESPONDA:**

A) QUAL O MEIO DE TRANSPORTE CONSIDERADO MAIS SEGURO NA OPINIÃO DAS PESSOAS?

R:

---

B) E QUAL O MENOS SEGURO?

R:

---

C) CONVERSE COM SUA FAMÍLIA E RESPONDAM: VOCÊS CONCORDA COM O RESULTADO DA PESQUISA: POR QUÊ?

R:

---

---

---

---



**BEIJOS DA PROFESSORA!!!!**